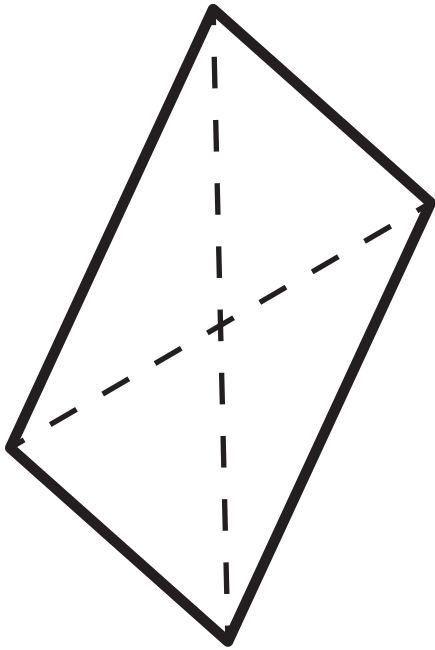


10



Enake
stranice



rdeča: vse
modra: dva para

Pravi
koti



Vzporedne
stranice



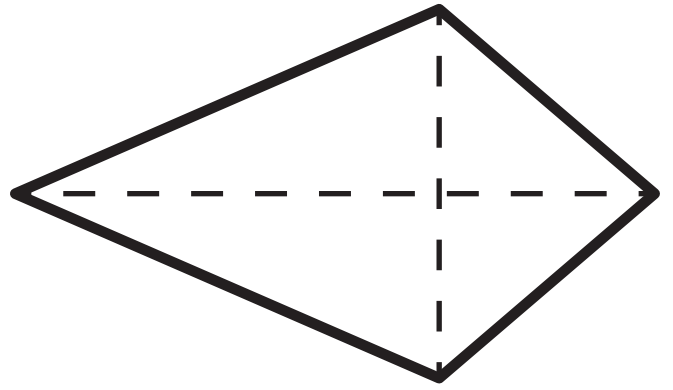
rumena: dva para
zelena: en par

Pravokotni
diagonali



Oblika: _____

11



Enake
stranice



rdeča: vse
modra: dva para

Pravi
koti



Vzporedne
stranice



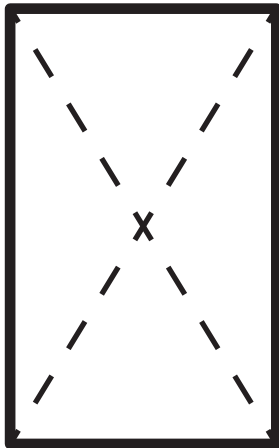
rumena: dva para
zelena: en par

Pravokotni
diagonali



Oblika: _____

12



Enake
stranice



rdeča: vse
modra: dva para

Pravi
koti



Vzporedne
stranice



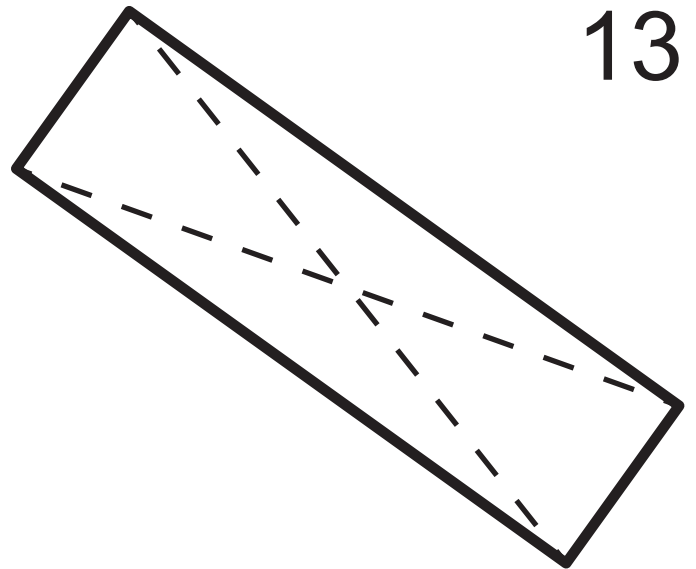
rumena: dva para
zelena: en par

Pravokotni
diagonali



Oblika: _____

13



Enake
stranice



rdeča: vse
modra: dva para

Pravi
koti



Vzporedne
stranice



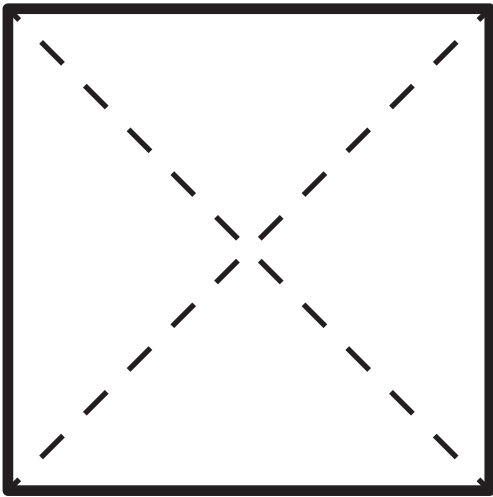
rumena: dva para
zelena: en par

Pravokotni
diagonali



Oblika: _____

14



Enake stranice

Pravi koti

Vzporedne stranice

Pravokotni diagonali

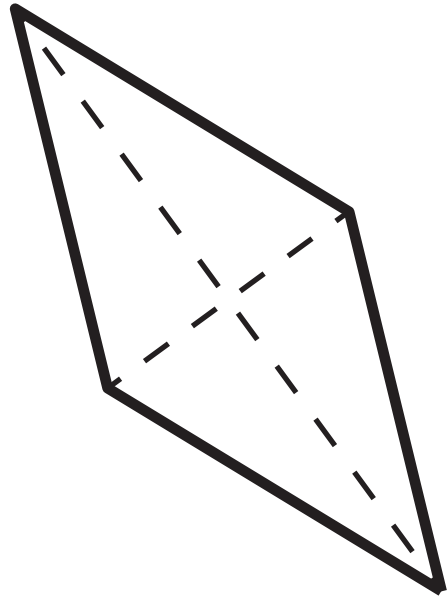


rdeča: vse
modra: dva para

rumena: dva para
zelena: en par

Oblika: _____

15



Enake stranice

Pravi koti

Vzporedne stranice

Pravokotni diagonali

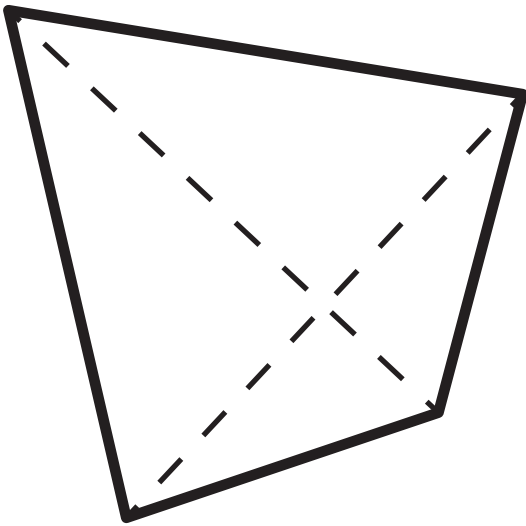


rdeča: vse
modra: dva para

rumena: dva para
zelena: en par

Oblika: _____

16



Enake stranice

Pravi koti

Vzporedne stranice

Pravokotni diagonali

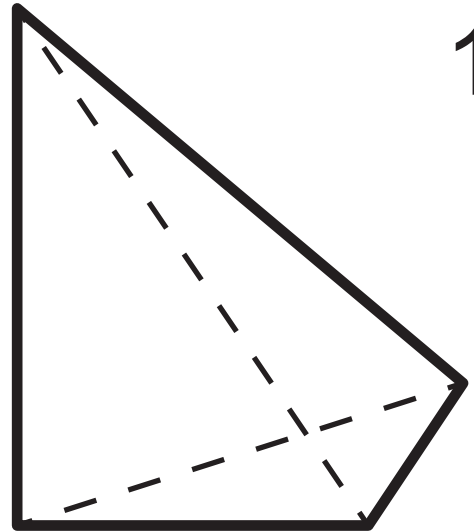


rdeča: vse
modra: dva para

rumena: dva para
zelena: en par

Oblika: _____

17



Enake stranice

Pravi koti

Vzporedne stranice

Pravokotni diagonali

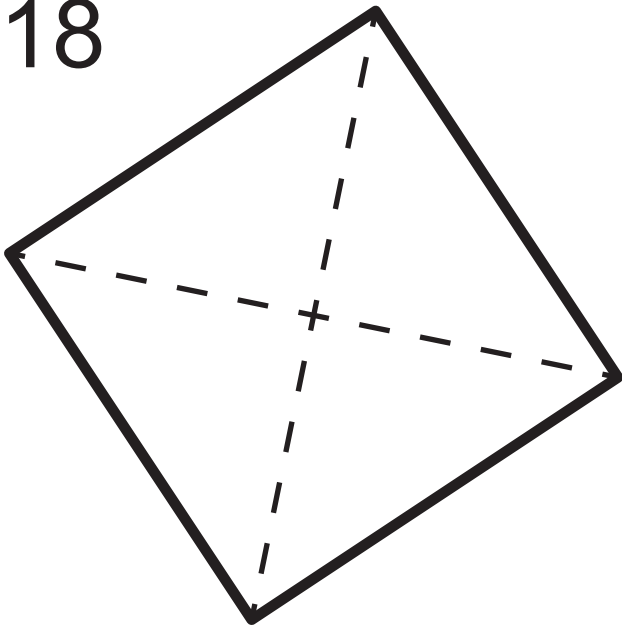


rdeča: vse
modra: dva para

rumena: dva para
zelena: en par

Oblika: _____

18



Enake
stranice



rdeča: vse
modra: dva para

Pravi
koti



rumena: dva para
zelena: en par

Vzporedne
stranice




Pravokotni
diagonali



Oblika: _____

19



Enake
stranice



rdeča: vse
modra: dva para

Pravi
koti



rumena: dva para
zelena: en par

Vzporedne
stranice

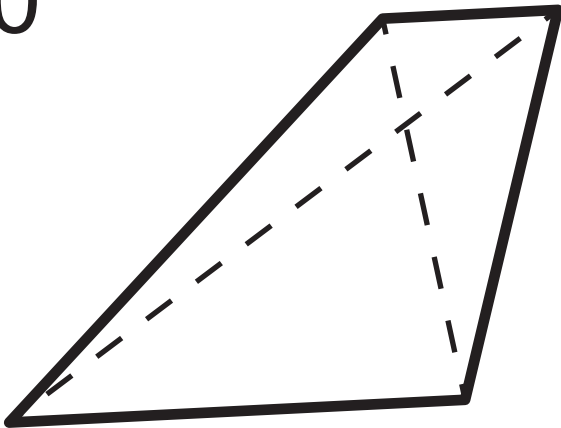


Pravokotni
diagonali



Oblika: _____

20



Enake
stranice



rdeča: vse
modra: dva para

Pravi
koti



rumena: dva para
zelena: en par

Vzporedne
stranice

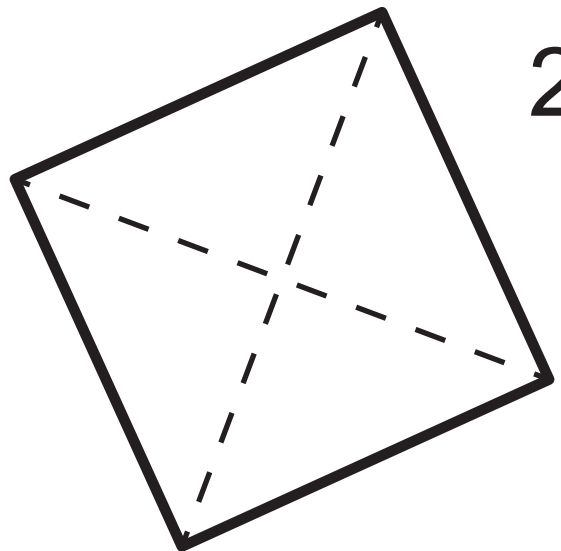


Pravokotni
diagonali



Oblika: _____

21



Enake
stranice



rdeča: vse
modra: dva para

Pravi
koti



rumena: dva para
zelena: en par

Vzporedne
stranice

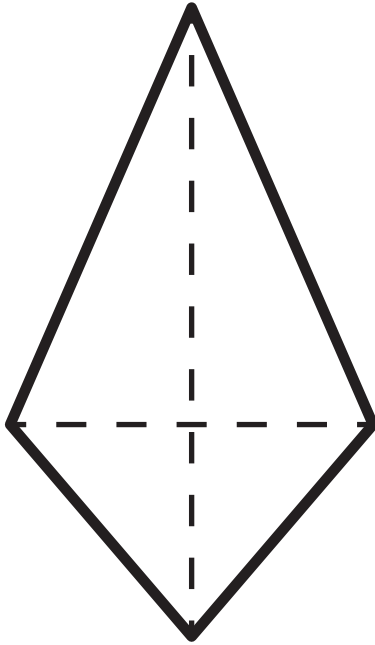


Pravokotni
diagonali



Oblika: _____

22



Enake
stranice



rdeča: vse
modra: dva para

Pravi
koti



Vzporedne
stranice



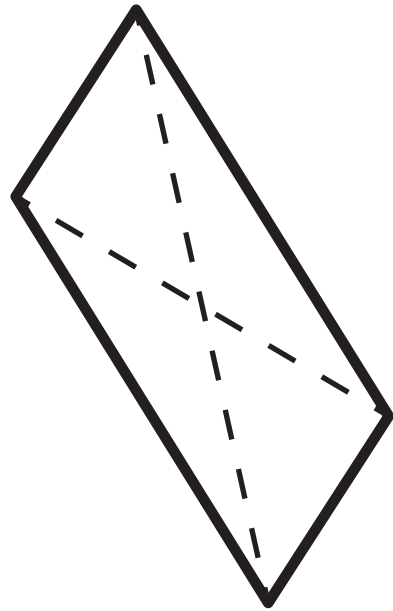
rumena: dva para
zelena: en par

Pravokotni
diagonali



Oblika: _____

23



Enake
stranice



rdeča: vse
modra: dva para

Pravi
koti



Vzporedne
stranice



rumena: dva para
zelena: en par

Pravokotni
diagonali



Oblika: _____

24



Enake
stranice



rdeča: vse
modra: dva para

Pravi
koti



Vzporedne
stranice



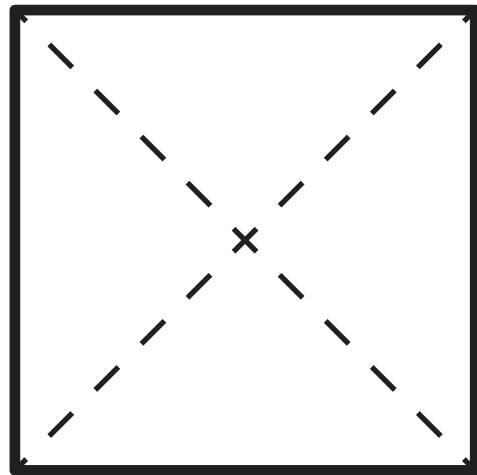
rumena: dva para
zelena: en par

Pravokotni
diagonali



Oblika: _____

25



Enake
stranice



rdeča: vse
modra: dva para

Pravi
koti



Vzporedne
stranice



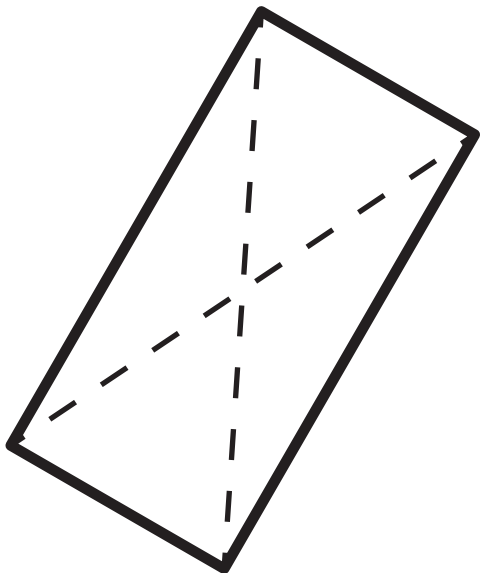
rumena: dva para
zelena: en par

Pravokotni
diagonali



Oblika: _____

26



Enake
stranice



rdeča: vse
modra: dva para

Pravi
koti



Vzporedne
stranice




rumena: dva para
zelena: en par

Pravokotni
diagonali



Oblika: _____

27



Enake
stranice



rdeča: vse
modra: dva para

Pravi
koti



Vzporedne
stranice



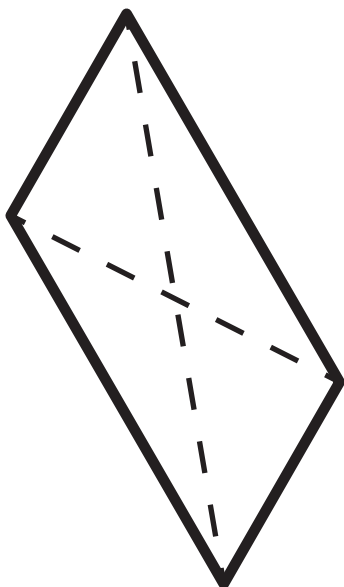
rumena: dva para
zelena: en par

Pravokotni
diagonali



Oblika: _____

28



Enake
stranice



rdeča: vse
modra: dva para

Pravi
koti



Vzporedne
stranice



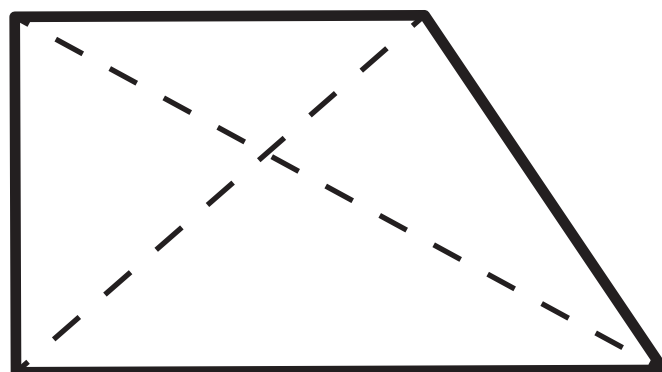
rumena: dva para
zelena: en par

Pravokotni
diagonali



Oblika: _____

29



Enake
stranice



rdeča: vse
modra: dva para

Pravi
koti



Vzporedne
stranice




rumena: dva para
zelena: en par

Pravokotni
diagonali



Oblika: _____

30



Enake
stranice



rdeča: vse
modra: dva para

Pravi
koti



Vzporedne
stranice




rumena: dva para
zelena: en par

Pravokotni
diagonali



Oblika: _____

31



Enake
stranice



rdeča: vse
modra: dva para

Pravi
koti



Vzporedne
stranice



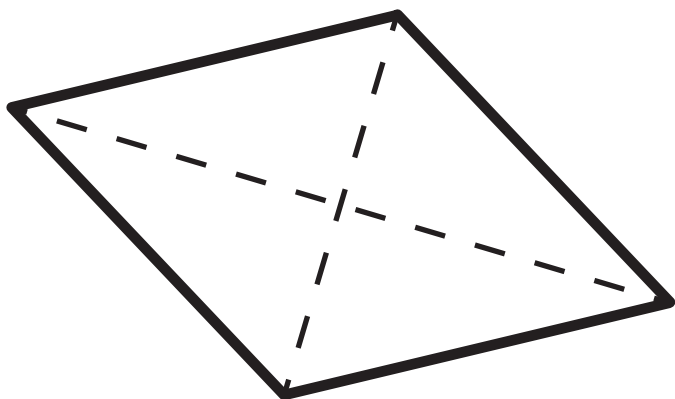
rumena: dva para
zelena: en par

Pravokotni
diagonali



Oblika: _____

32



Enake
stranice



rdeča: vse
modra: dva para

Pravi
koti



Vzporedne
stranice



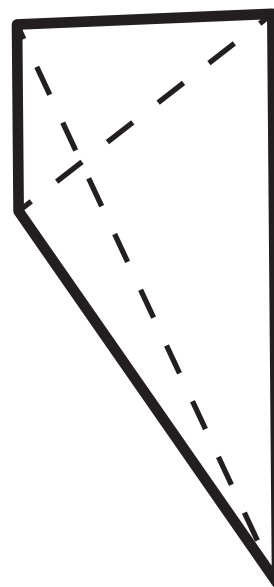
rumena: dva para
zelena: en par

Pravokotni
diagonali



Oblika: _____

33



Enake
stranice



rdeča: vse
modra: dva para

Pravi
koti



Vzporedne
stranice



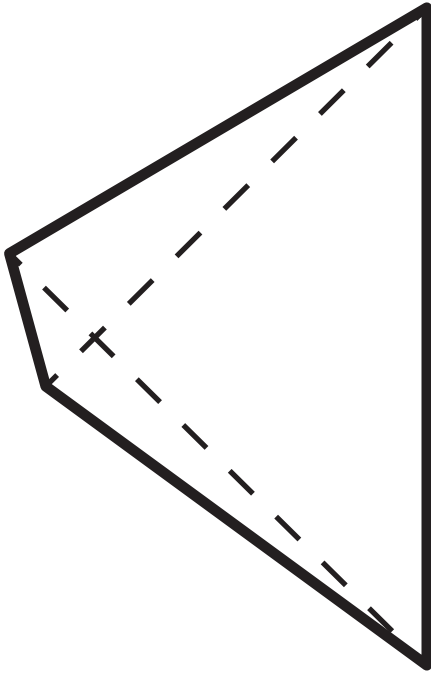
rumena: dva para
zelena: en par

Pravokotni
diagonali



Oblika: _____

34



Enake
stranice

Pravi
koti

Vzporedne
stranice

Pravokotni
diagonali

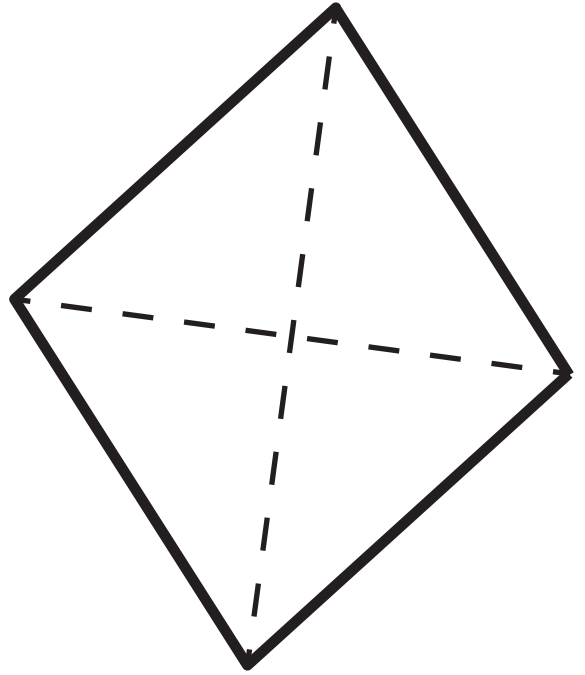


rdeča: vse
modra: dva para

rumena: dva para
zelena: en par

Oblika: _____

35



Enake
stranice

Pravi
koti

Vzporedne
stranice

Pravokotni
diagonali

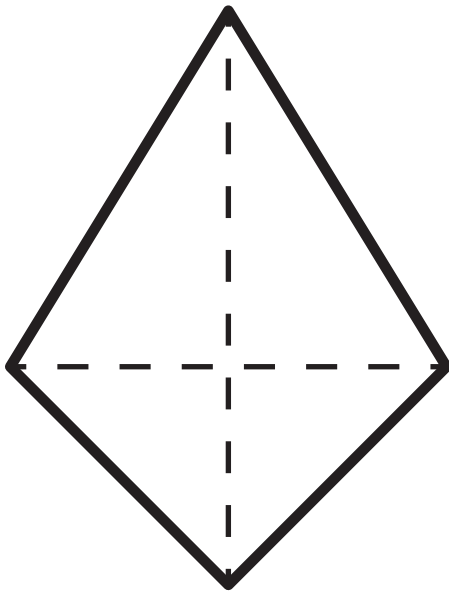


rdeča: vse
modra: dva para

rumena: dva para
zelena: en par

Oblika: _____

36



Enake
stranice

Pravi
koti

Vzporedne
stranice

Pravokotni
diagonali

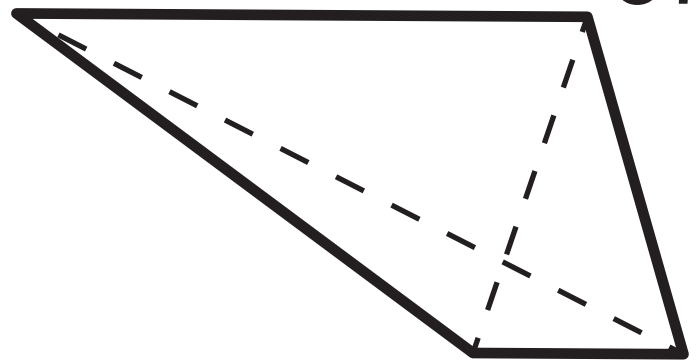


rdeča: vse
modra: dva para

rumena: dva para
zelena: en par

Oblika: _____

37



Enake
stranice

Pravi
koti

Vzporedne
stranice

Pravokotni
diagonali

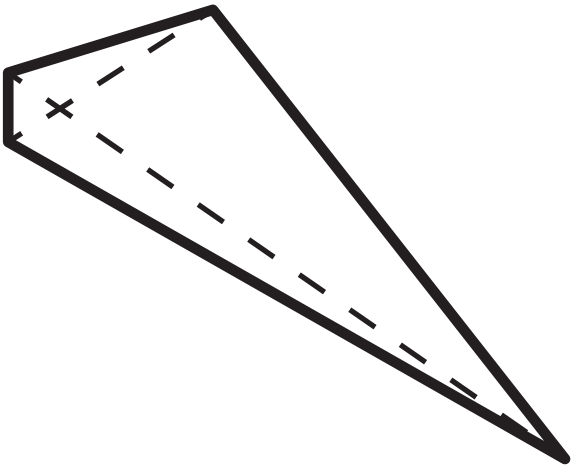


rdeča: vse
modra: dva para

rumena: dva para
zelena: en par

Oblika: _____

38



Enake
stranice



rdeča: vse
modra: dva para

Pravi
koti



Vzporedne
stranice



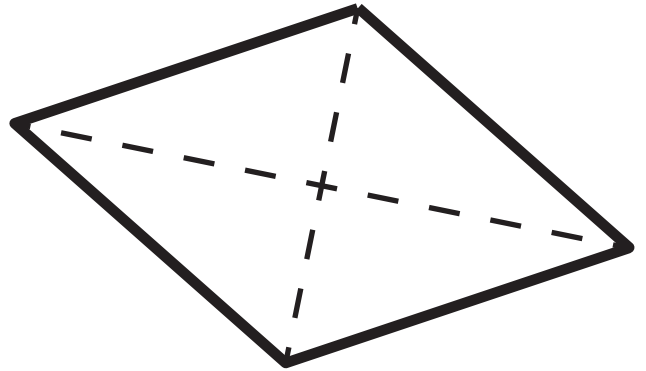
rumena: dva para
zelena: en par

Pravokotni
diagonali



Oblika: _____

39



Enake
stranice



rdeča: vse
modra: dva para

Pravi
koti



Vzporedne
stranice



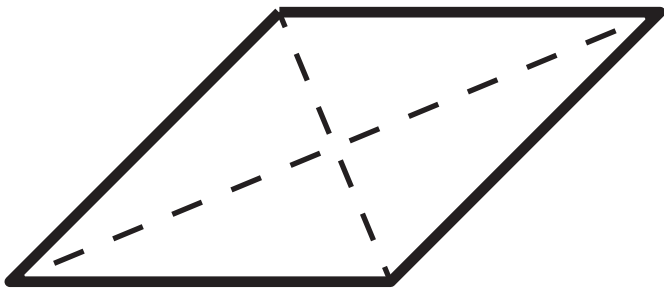
rumena: dva para
zelena: en par

Pravokotni
diagonali



Oblika: _____

40



Enake
stranice



rdeča: vse
modra: dva para

Pravi
koti



Vzporedne
stranice



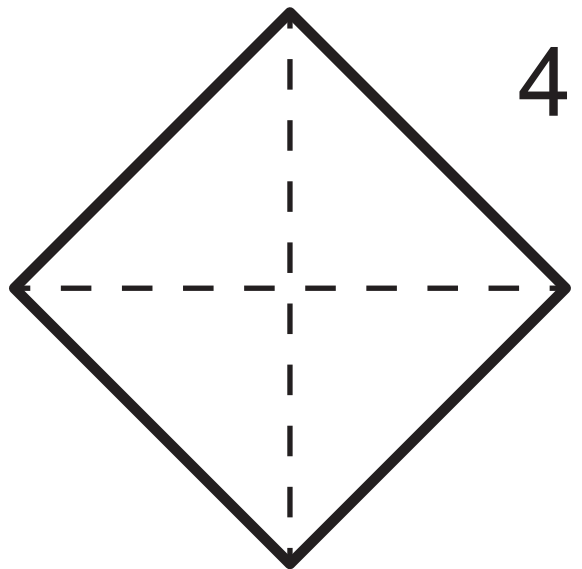
rumena: dva para
zelena: en par

Pravokotni
diagonali



Oblika: _____

41



Enake
stranice



rdeča: vse
modra: dva para

Pravi
koti



Vzporedne
stranice



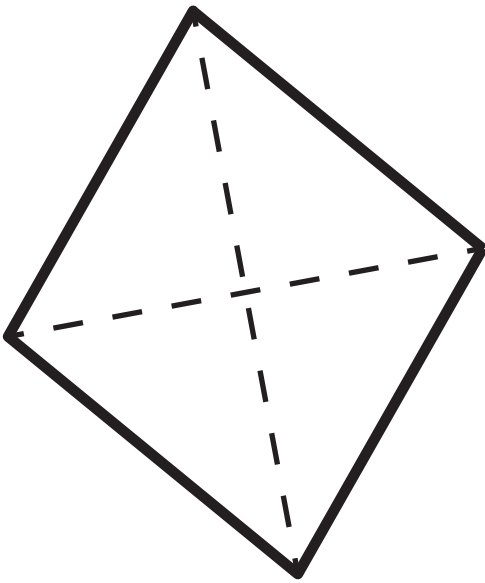
rumena: dva para
zelena: en par

Pravokotni
diagonali



Oblika: _____

42



Enake
stranice

Pravi
koti

Vzporedne
stranice

Pravokotni
diagonali

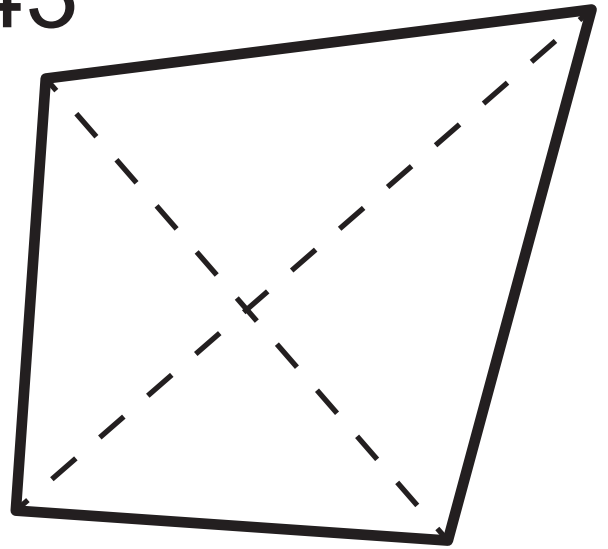


rdeča: vse
modra: dva para

rumena: dva para
zelena: en par

Oblika: _____

43



Enake
stranice

Pravi
koti

Vzporedne
stranice

Pravokotni
diagonali

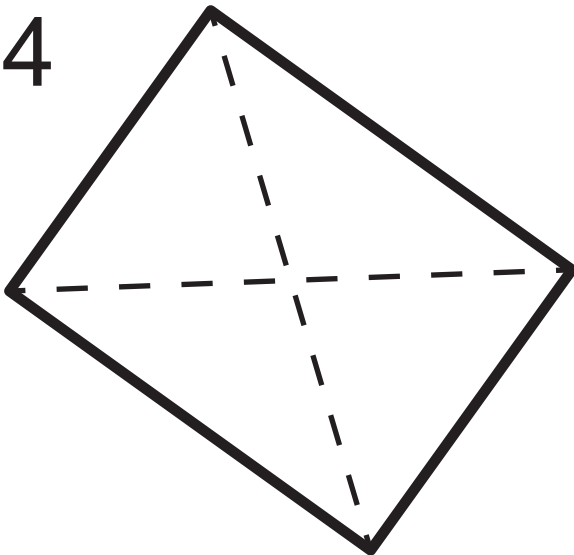


rdeča: vse
modra: dva para

rumena: dva para
zelena: en par

Oblika: _____

44



Enake
stranice

Pravi
koti

Vzporedne
stranice

Pravokotni
diagonali

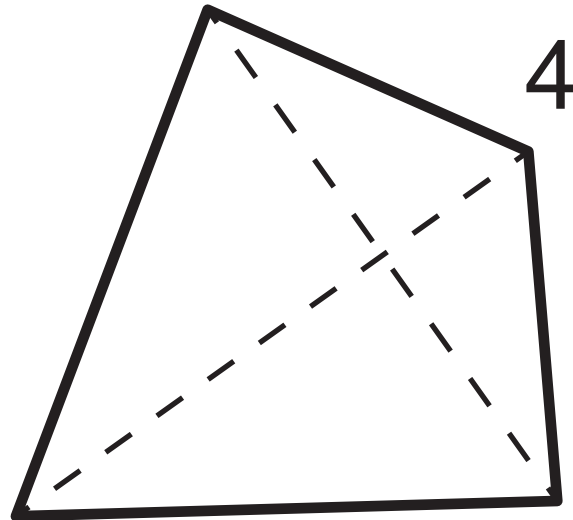


rdeča: vse
modra: dva para

rumena: dva para
zelena: en par

Oblika: _____

45



Enake
stranice

Pravi
koti

Vzporedne
stranice

Pravokotni
diagonali

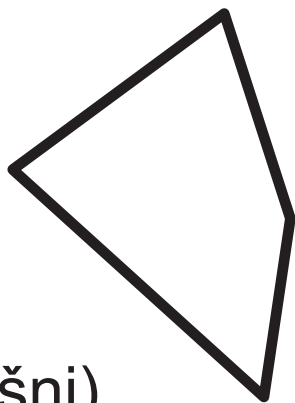


rdeča: vse
modra: dva para

rumena: dva para
zelena: en par


Oblika: _____

50



(splošni)

51



romb

(prepogni)

Enake
stranice



rdeča: vse
modra: dva para

Pravi
koti



Vzporedne
stranice



rumena: dva para
zelena: en par

Pravokotne
diagonale



Enake
stranice



rdeča: vse
modra: dva para

Pravi
koti



Vzporedne
stranice




rumena: dva para
zelena: en par

Pravokotne
diagonale




52



paralelogram

53



pravokotnik

(prepogni)

Enake
stranice



rdeča: vse
modra: dva para

Pravi
koti



Vzporedne
stranice



rumena: dva para
zelena: en par

Pravokotne
diagonale



Enake
stranice



rdeča: vse
modra: dva para

Pravi
koti



Vzporedne
stranice

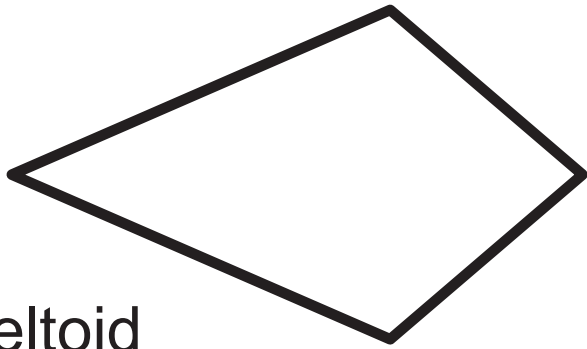


rumena: dva para
zelena: en par

Pravokotne
diagonale




54



deltoid

55



kvadrat

(prepogni)

Enake
stranice



rdeča: vse
modra: dva para

Pravi
koti



Vzporedne
stranice



rumena: dva para
zelena: en par

Pravokotne
diagonale



Enake
stranice



rdeča: vse
modra: dva para

Pravi
koti



Vzporedne
stranice




rumena: dva para
zelena: en par

Pravokotne
diagonale




56



trapez

57



pravokotnik

(prepogni)

Enake
stranice



rdeča: vse
modra: dva para

Pravi
koti



Vzporedne
stranice



rumena: dva para
zelena: en par

Pravokotne
diagonale



Enake
stranice



rdeča: vse
modra: dva para

Pravi
koti



Vzporedne
stranice



rumena: dva para
zelena: en par

Pravokotne
diagonale



So vse stranice enako dolge?

Ne

Da

Dva para enako dolgih stranic?

Ne

Da

En par enako dolgih stranic?

Ne

Da

Dva para vzporednih stranic?

Ne

Da

Sta diagonali pravokotni?

Ne

Da

So vsi koti pravi?

Ne

Da

Pravokotnik

Kvadrat

Romb

Paralelogram

Trapez

Deltoid

**Splošen
štirikotnik**

Število vzporednih stranic

Nič

En par

Dva para

Število enakih stranic

**Nič od
tega**

Dva para

Vse

Število vzporednih stranic

Nič

En par

Dva para

So vse stranice enako dolge?

Ne

Da

Dva para enako dolgih stranic?

Ne

Da

En par enako dolgih stranic?

Ne

Da

Dva para vzporednih stranic?

Ne

Da

Sta diagonali pravokotni?

Ne

Da

So vsi koti pravi?

Ne

Da