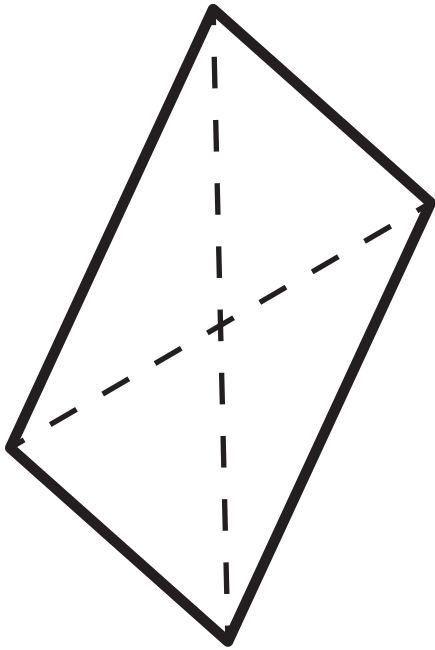


10



Enake
stranice



rdeča: vse
modra: dva para

Pravi
koti



Vzporedne
stranice



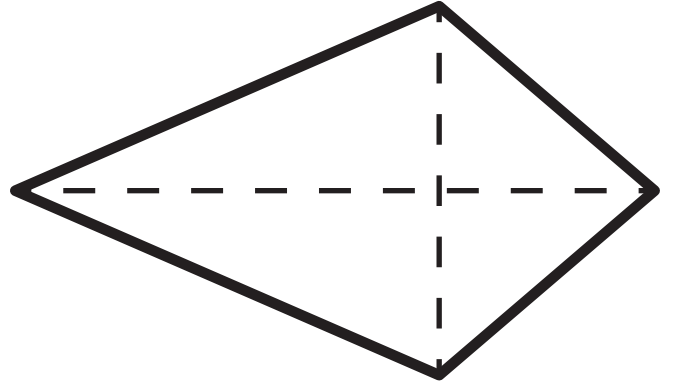
rumena: dva para
zelena: en par

Pravokotne
diagonale



Oblika: Paralelogram

11



Enake
stranice



rdeča: vse
modra: dva para

Pravi
koti



Vzporedne
stranice



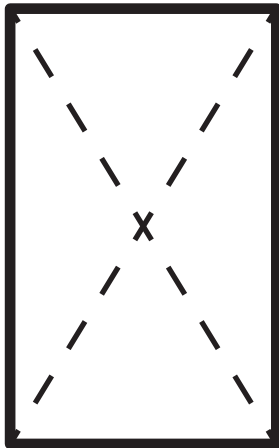
rumena: dva para
zelena: en par

Pravokotne
diagonale



Oblika: deltoid

12



Enake
stranice



rdeča: vse
modra: dva para

Pravi
koti



Vzporedne
stranice



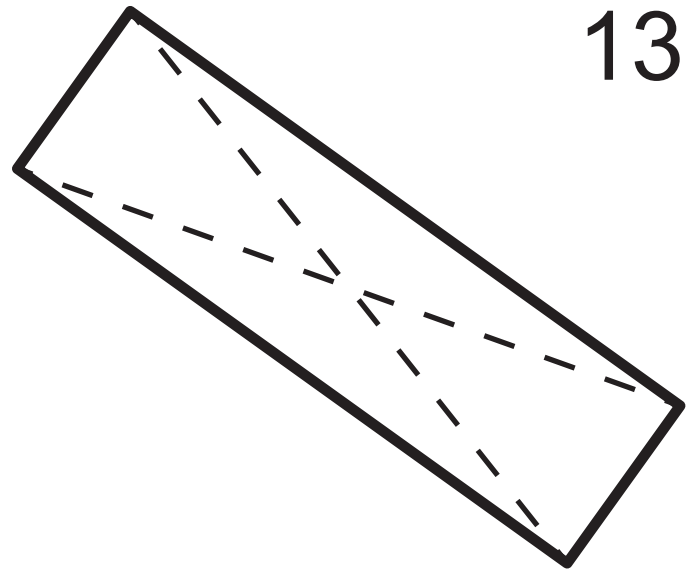
rumena: dva para
zelena: en par

Pravokotne
diagonale



Oblika: pravokotnik

13



Enake
stranice



rdeča: vse
modra: dva para

Pravi
koti



Vzporedne
stranice



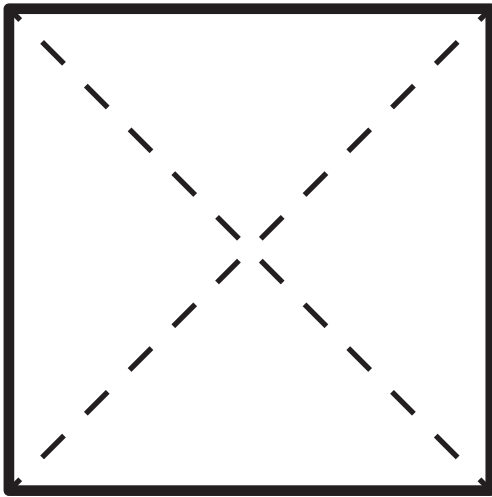
rumena: dva para
zelena: en par

Pravokotne
diagonale



Oblika: pravokotnik

14



Enake stranice



rdeča: vse
modra: dva para

Pravi koti



Vzporedne stranice



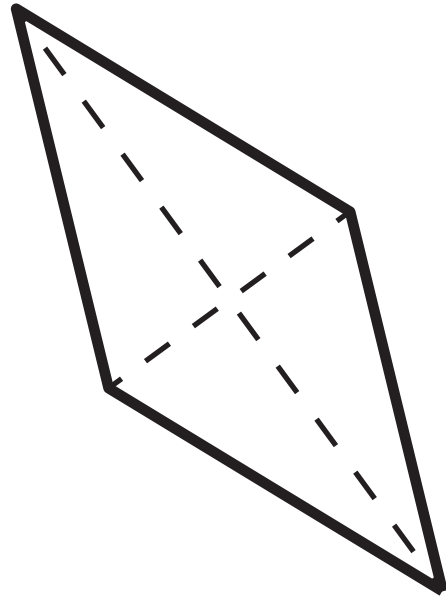
rumena: dva para
zelena: en par

Pravokotne diagonale



Oblika: kvadrat

15



Enake stranice



rdeča: vse
modra: dva para

Pravi koti



Vzporedne stranice



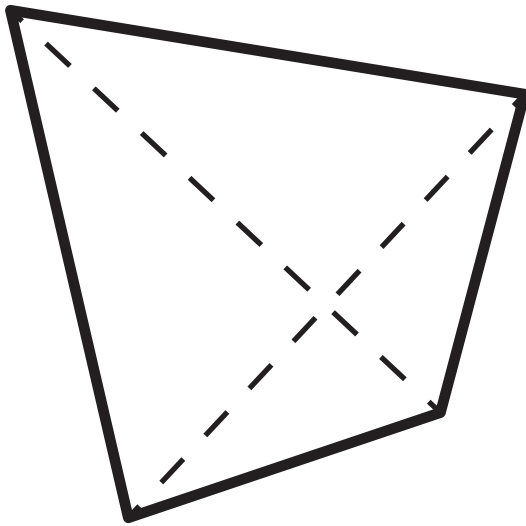
rumena: dva para
zelena: en par

Pravokotne diagonale



Oblika: romb

16



Enake stranice



rdeča: vse
modra: dva para

Pravi koti



Vzporedne stranice



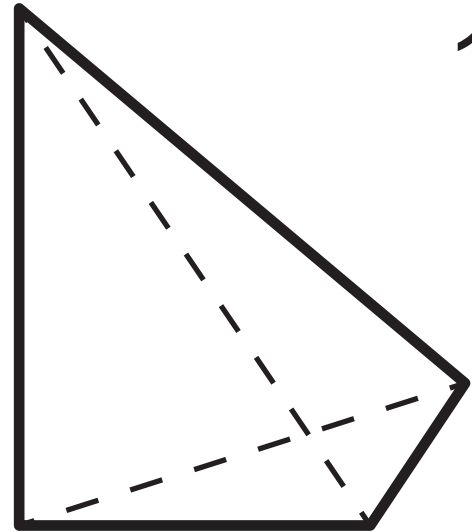
rumena: dva para
zelena: en par

Pravokotne diagonale



Oblika: deltoid

17



Enake stranice



rdeča: vse
modra: dva para

Pravi koti



Vzporedne stranice



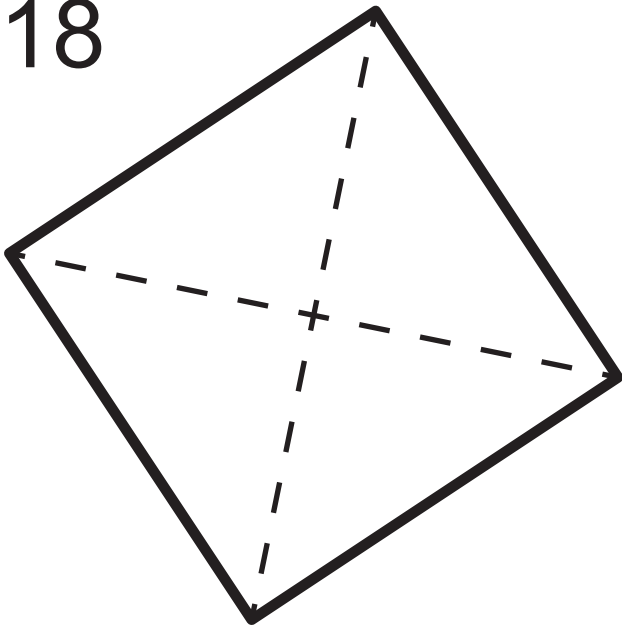
rumena: dva para
zelena: en par

Pravokotne diagonale



Oblika: splošni

18



Enake stranice



rdeča: vse
modra: dva para

Pravi koti



Vzporedne stranice




rumena: dva para
zelena: en par

Pravokotne diagonale



Oblika: kvadrat

19



Enake stranice



rdeča: vse
modra: dva para

Pravi koti



Vzporedne stranice



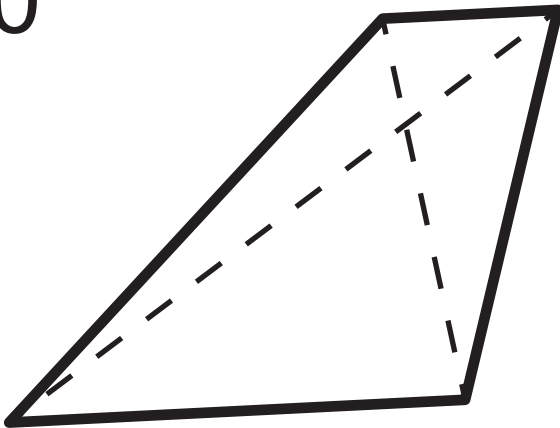
rumena: dva para
zelena: en par

Pravokotne diagonale



Oblika: trapez

20



Enake stranice



rdeča: vse
modra: dva para

Pravi koti



Vzporedne stranice



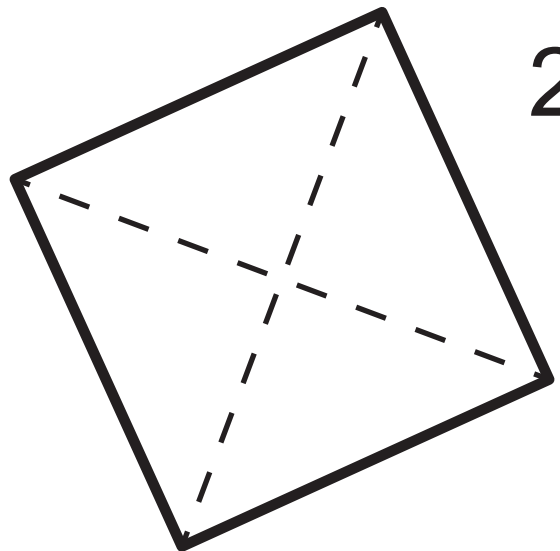
rumena: dva para
zelena: en par

Pravokotne diagonale



Oblika: trapez

21



Enake stranice



rdeča: vse
modra: dva para

Pravi koti



Vzporedne stranice



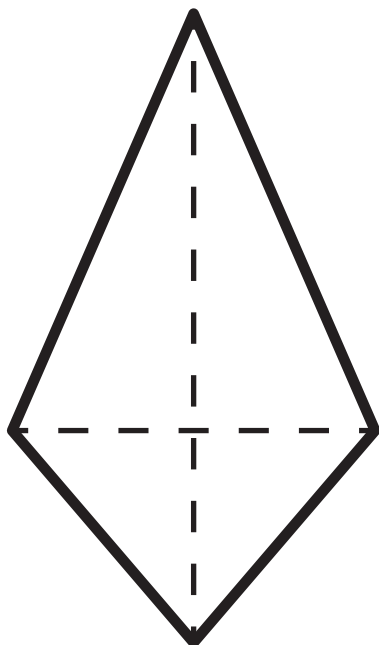
rumena: dva para
zelena: en par

Pravokotne diagonale



Oblika: kvadrat

22



Enake
stranice



rdeča: vse
modra: dva para

Pravi
koti



Vzporedne
stranice



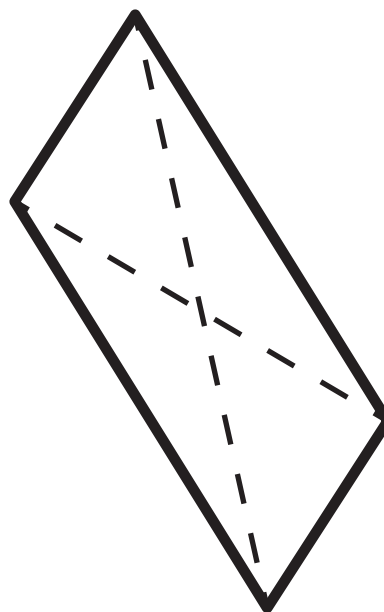
rumena: dva para
zelena: en par

Pravokotne
diagonale



Oblika: deltoid

23



Enake
stranice



rdeča: vse
modra: dva para

Pravi
koti



Vzporedne
stranice



rumena: dva para
zelena: en par

Pravokotne
diagonale



Oblika: paralelogram

24



Enake
stranice



rdeča: vse
modra: dva para

Pravi
koti



Vzporedne
stranice



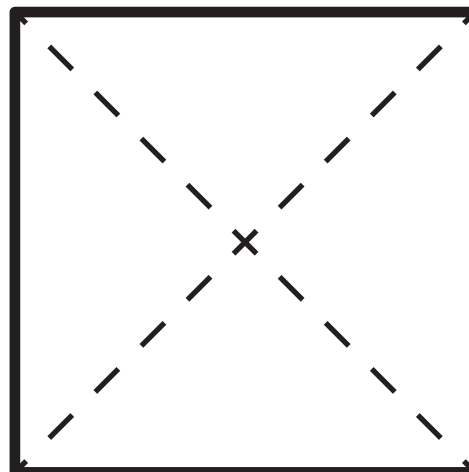
rumena: dva para
zelena: en par

Pravokotne
diagonale



Oblika: pravokotnik

25



Enake
stranice



rdeča: vse
modra: dva para

Pravi
koti



Vzporedne
stranice



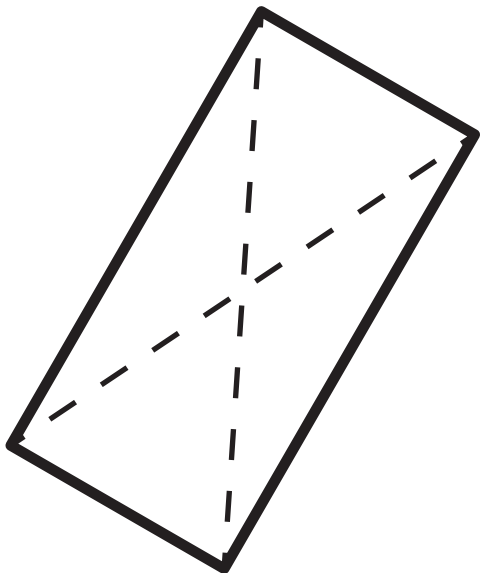
rumena: dva para
zelena: en par

Pravokotne
diagonale



Oblika: kvadrat

26



Enake
stranice



rdeča: vse
modra: dva para

Pravi
koti



Vzporedne
stranice



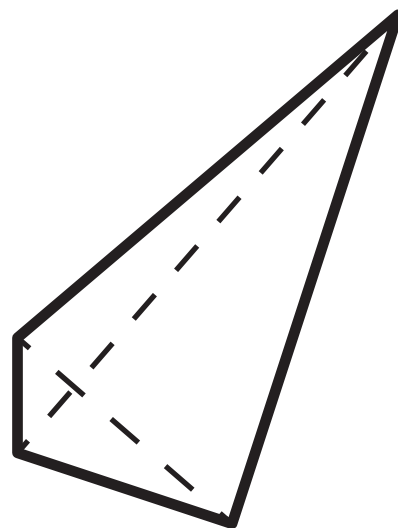
rumena: dva para
zelena: en par

Pravokotne
diagonale



Oblika: pravokotnik

27



Enake
stranice



rdeča: vse
modra: dva para

Pravi
koti



Vzporedne
stranice



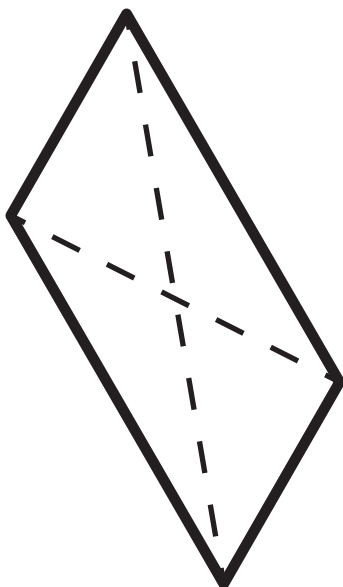
rumena: dva para
zelena: en par

Pravokotne
diagonale



Oblika: splošni

28



Enake
stranice



rdeča: vse
modra: dva para

Pravi
koti



Vzporedne
stranice



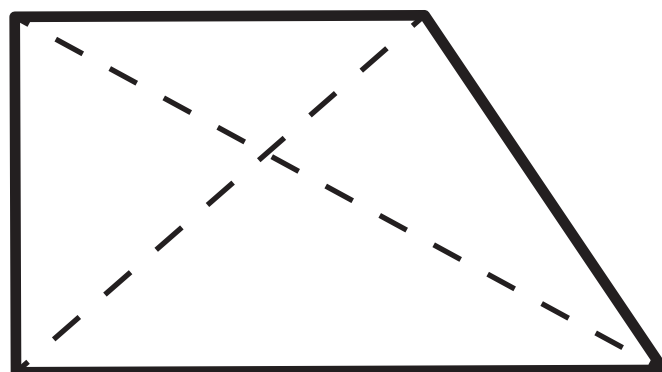
rumena: dva para
zelena: en par

Pravokotne
diagonale



Oblika: paralelogram

29



Enake
stranice



rdeča: vse
modra: dva para

Pravi
koti



Vzporedne
stranice




rumena: dva para
zelena: en par

Pravokotne
diagonale



Oblika: trapez

30



Enake
stranice



rdeča: vse
modra: dva para

Pravi
koti



Vzporedne
stranice



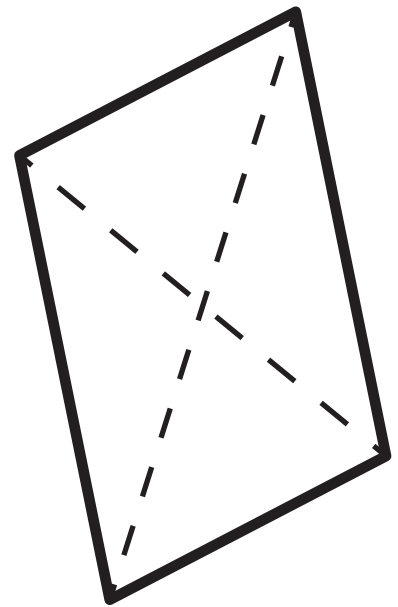
rumena: dva para
zelena: en par

Pravokotne
diagonale



Oblika: trapez

31



Enake
stranice



rdeča: vse
modra: dva para

Pravi
koti



Vzporedne
stranice



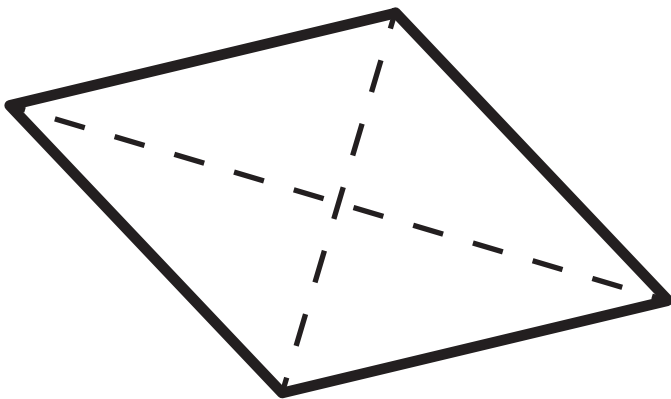
rumena: dva para
zelena: en par

Pravokotne
diagonale



Oblika: paralelogram

32



Enake
stranice



rdeča: vse
modra: dva para

Pravi
koti



Vzporedne
stranice



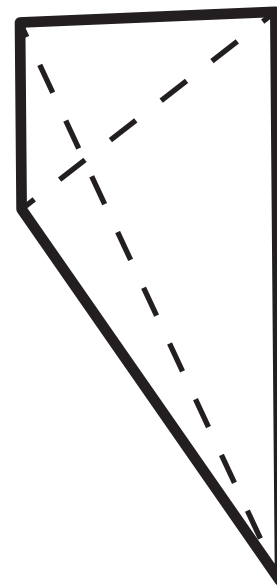
rumena: dva para
zelena: en par

Pravokotne
diagonale



Oblika: romb

33



Enake
stranice



rdeča: vse
modra: dva para

Pravi
koti



Vzporedne
stranice



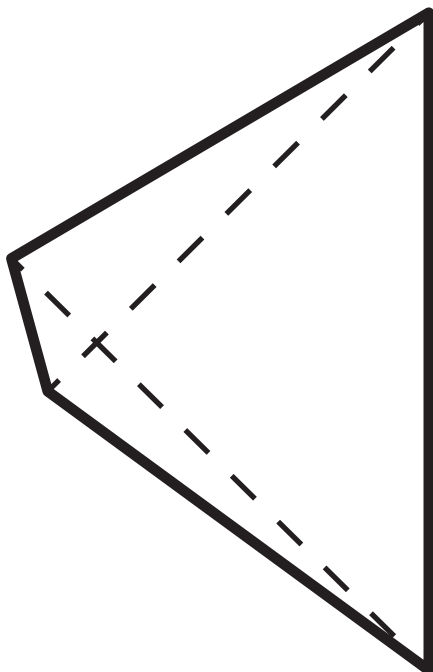
rumena: dva para
zelena: en par

Pravokotne
diagonale



Oblika: trapez

34



Enake
stranice



rdeča: vse
modra: dva para

Pravi
koti



Vzporedne
stranice



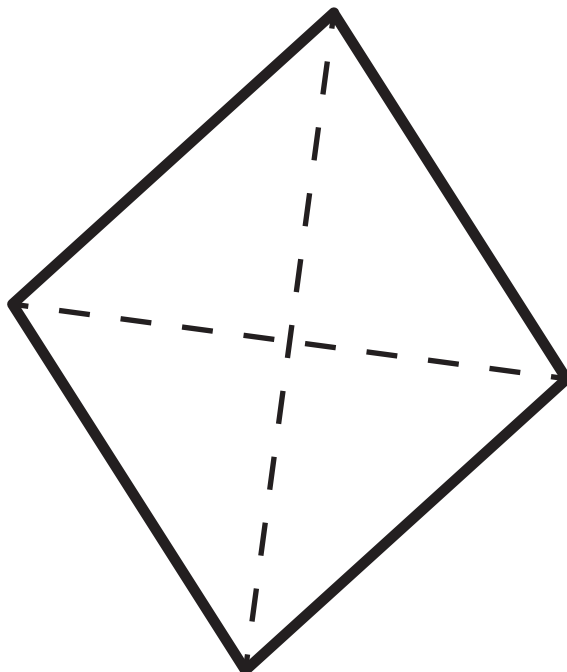
rumena: dva para
zelena: en par

Pravokotne
diagonale



Oblika: splošni

35



Enake
stranice



rdeča: vse
modra: dva para

Pravi
koti



Vzporedne
stranice



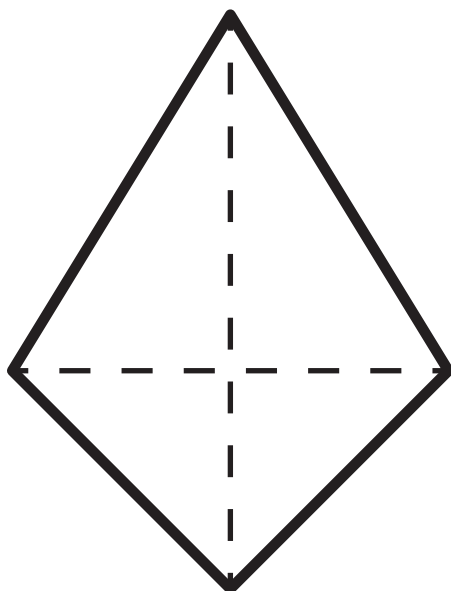
rumena: dva para
zelena: en par

Pravokotne
diagonale



Oblika: romb

36



Enake
stranice



rdeča: vse
modra: dva para

Pravi
koti



Vzporedne
stranice



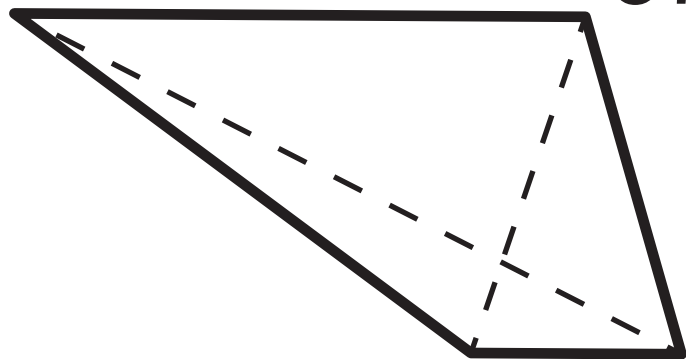
rumena: dva para
zelena: en par

Pravokotne
diagonale



Oblika: deltoid

37



Enake
stranice



rdeča: vse
modra: dva para

Pravi
koti



Vzporedne
stranice



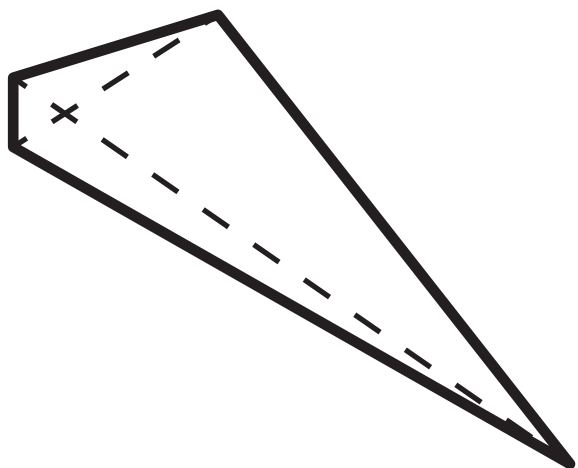
rumena: dva para
zelena: en par

Pravokotne
diagonale



Oblika: trapez

38



Enake
stranice



rdeča: vse
modra: dva para

Pravi
koti



Vzporedne
stranice



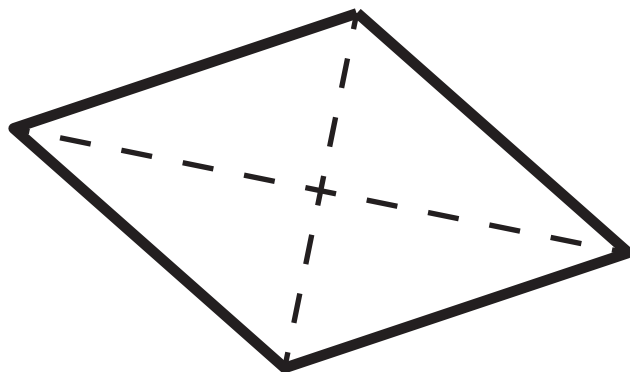
rumena: dva para
zelena: en par

Pravokotne
diagonale



Oblika: splošni

39



Enake
stranice



rdeča: vse
modra: dva para

Pravi
koti



Vzporedne
stranice



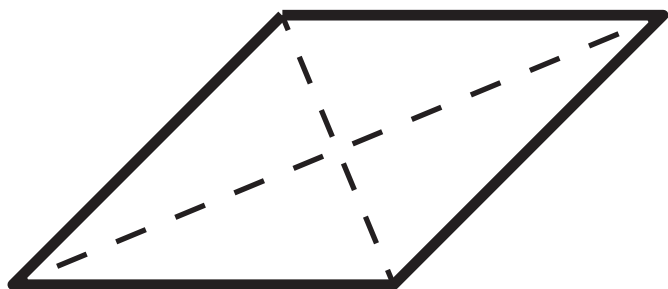
rumena: dva para
zelena: en par

Pravokotne
diagonale



Oblika: romb

40



Enake
stranice



rdeča: vse
modra: dva para

Pravi
koti



Vzporedne
stranice



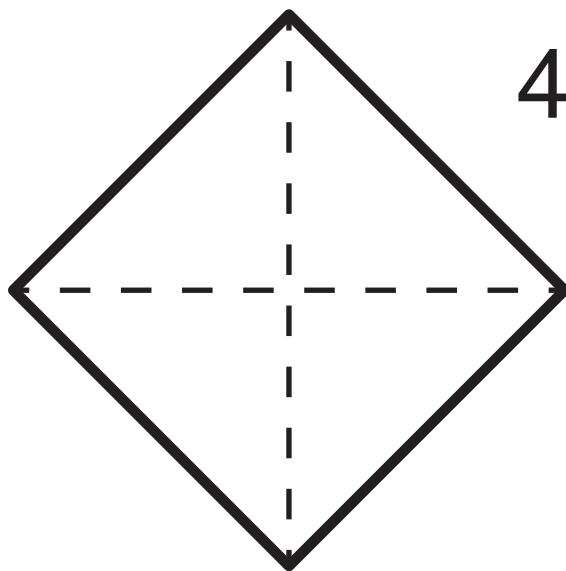
rumena: dva para
zelena: en par

Pravokotne
diagonale



Oblika: pravokotnik

41



Enake
stranice



rdeča: vse
modra: dva para

Pravi
koti



Vzporedne
stranice



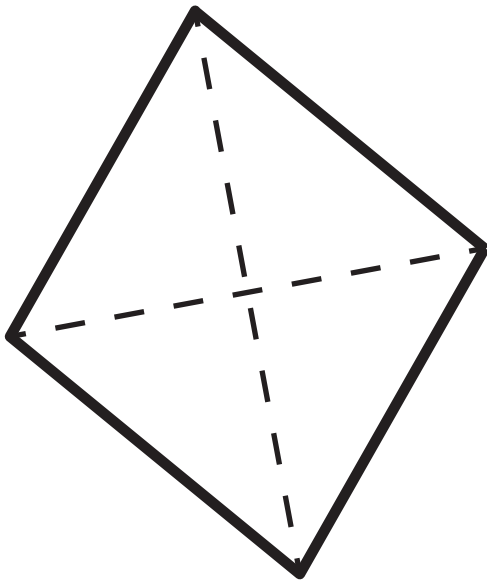
rumena: dva para
zelena: en par

Pravokotne
diagonale



Oblika: kvadrat

42



Enake stranice



rdeča: vse
modra: dva para

Pravi koti



Oblika: romb

Vzporedne stranice

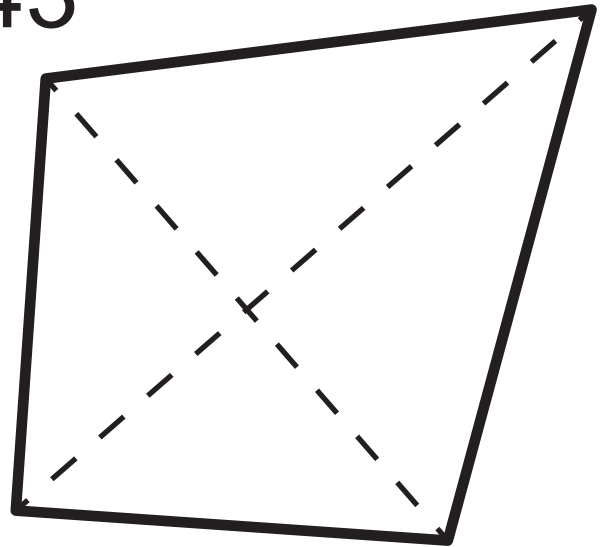


rumena: dva para
zelena: en par

Pravokotne diagonale



43



Enake stranice



rdeča: vse
modra: dva para

Pravi koti



Oblika: deltoid

Vzporedne stranice

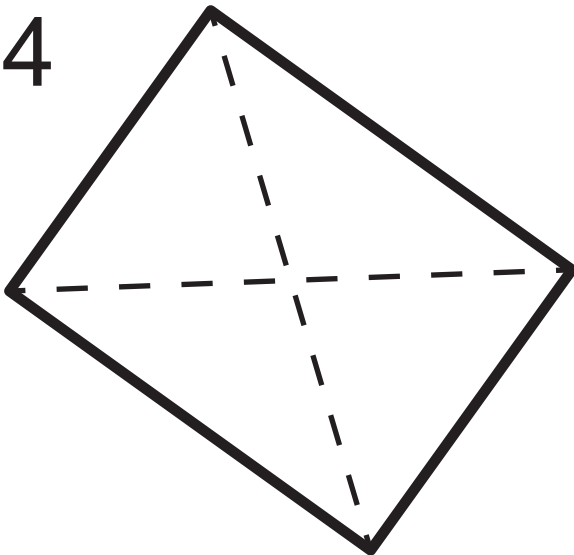


rumena: dva para
zelena: en par

Pravokotne diagonale



44



Enake stranice



rdeča: vse
modra: dva para

Pravi koti



Oblika: pravokotnik

Vzporedne stranice

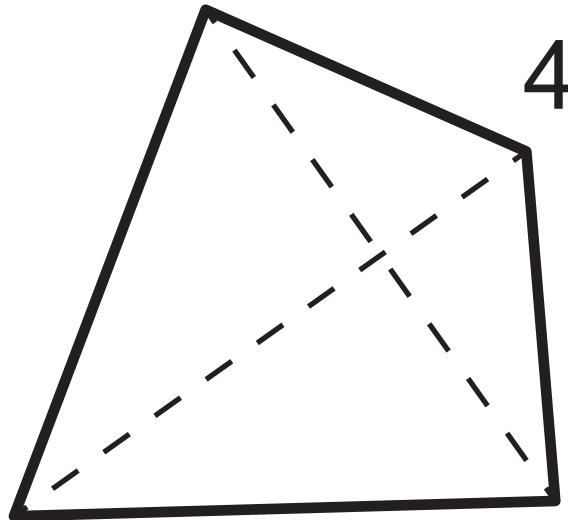


rumena: dva para
zelena: en par

Pravokotne diagonale



45



Enake stranice



rdeča: vse
modra: dva para

Pravi koti



Oblika: deltoid

Vzporedne stranice

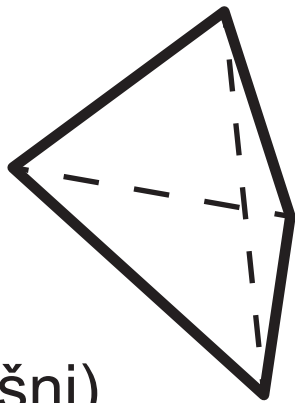


rumena: dva para
zelena: en par

Pravokotne diagonale

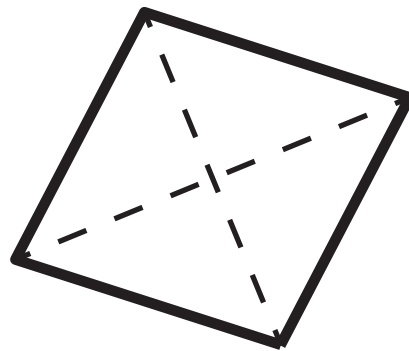


50



(splošni)

51



romb

(prepogni)

Enake
stranice



rdeča: vse
modra: dva para

Pravi
koti



Vzporedne
stranice



rumena: dva para
zelena: en par

Pravokotne
diagonale



Enake
stranice



rdeča: vse
modra: dva para

Pravi
koti



Vzporedne
stranice

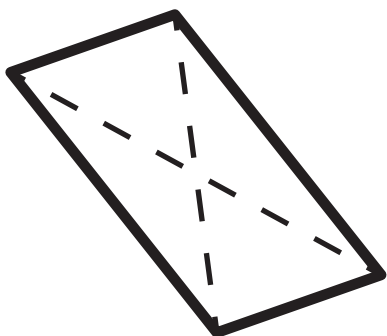


rumena: dva para
zelena: en par

Pravokotne
diagonale

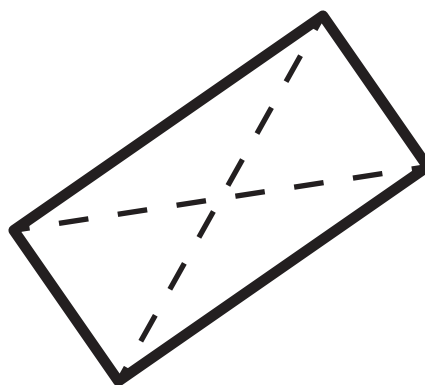


52



paralelogram

53



pravokotnik

(prepogni)

Enake
stranice



rdeča: vse
modra: dva para

Pravi
koti



Vzporedne
stranice



rumena: dva para
zelena: en par

Pravokotne
diagonale



Enake
stranice



rdeča: vse
modra: dva para

Pravi
koti



Vzporedne
stranice

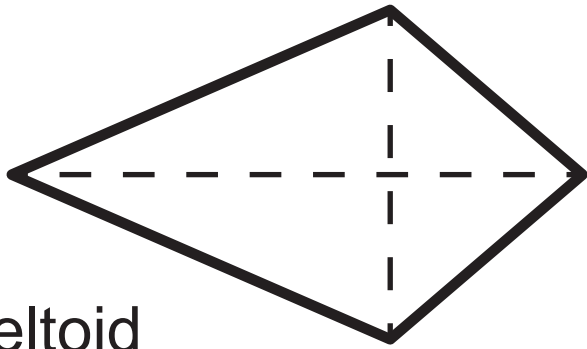


rumena: dva para
zelena: en par

Pravokotne
diagonale

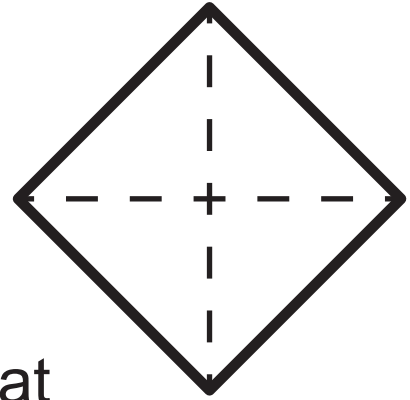


54



deltoid

55



kvadrat

(prepogni)

Enake
stranice



rdeča: vse
modra: dva para

Pravi
koti



Vzporedne
stranice



rumena: dva para
zelena: en par

Pravokotne
diagonale



Enake
stranice



rdeča: vse
modra: dva para

Pravi
koti



Vzporedne
stranice

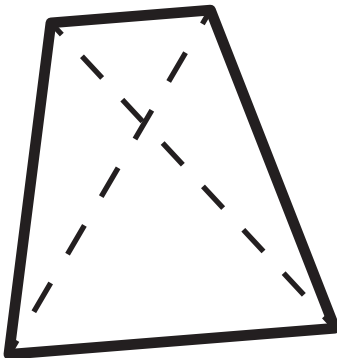


rumena: dva para
zelena: en par

Pravokotne
diagonale

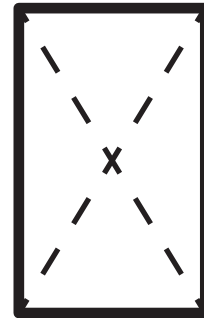


56



trapez

57



pravokotnik

(prepogni)

Enake
stranice



rdeča: vse
modra: dva para

Pravi
koti



Vzporedne
stranice



rumena: dva para
zelena: en par

Pravokotne
diagonale



Enake
stranice



rdeča: vse
modra: dva para

Pravi
koti



Vzporedne
stranice



rumena: dva para
zelena: en par

Pravokotne
diagonale



So vse stranice enako dolge?

Ne

Da

Dva para enako dolgih stranic?

Ne

Da

En par enako dolgih stranic?

Ne

Da

Dva para vzporednih stranic?

Ne

Yes

Sta diagonali pravokotni?

Ne

Da

So vsi koti pravi?

Ne

Da

So vse stranice enako dolge?

Ne

Da

Dva para enako dolgih stranic?

Ne

Da

En par enako dolgih stranic?

Ne

Da

Dva para vzporednih stranic?

Ne

Da

Sta diagonali pravokotni?

Ne

Da

So vsi koti pravi?

Ne

Da

Število vzporednih stranic

Nič

En par

Dva para

Število enakih stranic

Nič od
tega

Dva para

Vse

Število vzporednih stranic

Nič

En par

Dva para

Pravokotnik

Kvadrat

Romb

Paralelogram

Trapez

Deltoid

**Splošen
štirikotnik**